

TEST DE PREPARACIÓN DE OPOSICIONES A LA UNIÓN EUROPEA

Ejemplar gratuito

Administradores

Interpretes / Traductores

Asistentes

Especialistas

CAST

**2 preguntas test de
razonamiento
verbal**

**2 preguntas test de
razonamiento
numérico**

**2 preguntas test de
razonamiento
abstracto**

OPOSICIONESUE.COM

Buscar, teniendo solo en cuenta la información incluida en el texto, la opción que más se ajusta a la verdad.

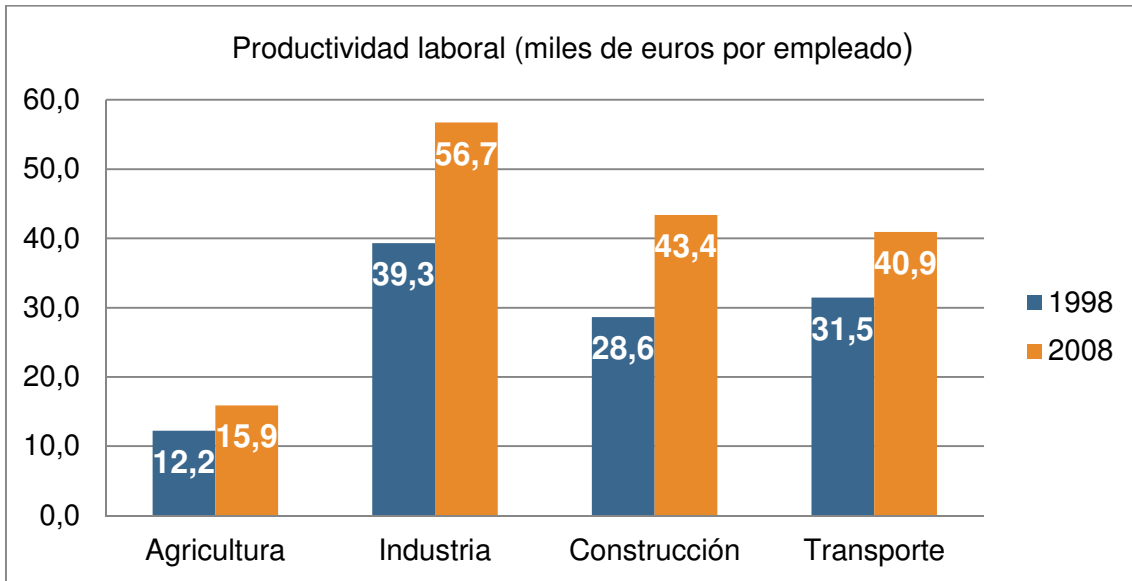
1. En 1810, comienza un proceso de búsqueda de la autodeterminación de Chile, con el establecimiento de la Primera Junta de Gobierno, iniciando un periodo conocido como Patria Vieja, que duraría hasta el Desastre de Rancagua en 1814, cuando las tropas realistas reconquistarían el territorio. Las tropas independentistas, refugiadas en Mendoza, formarían junto a las tropas argentinas el Ejército de los Andes comandado por el General en Jefe José de San Martín que liberaría Chile tras la batalla de Chacabuco, el 12 de febrero de 1817. Al año siguiente, se declararía la Independencia de Chile, durante el gobierno del Director Supremo Bernardo O'Higgins. O'Higgins inicia un período de reformas que provocan el descontento de gran parte de la oligarquía, lo que causa su abdicación en 1823. Durante los siete años siguientes, Chile se vería sometido a una serie de procesos que buscaban dar organización al nuevo país. Tras una serie de intentos fallidos y la victoria conservadora en la Revolución de 1829, se da inicio a un período de estabilidad en la llamada República Conservadora.

- a) El periodo denominado Patria Vieja duró alrededor de cinco años.
- b) Las tropas realistas y las tropas del Ejército de los Andes colaboraron en la batalla de Chacabuco.
- c) Gran parte de la oligarquía estaba en contra de la independencia chilena.
- d) Tras la abdicación de O'Higgins comenzó la denominada Republica Conservadora.

2. Además de morir de hambre, los leones cachorros también corren otros muchos peligros como, por ejemplo, ser cazados por chacales, hienas, leopardos, águilas marciales y serpientes. Incluso los búfalos, si perciben el olor de las crías del león, inician una estampida hacia la zona de matorral o la madriguera donde se encuentran los cachorros, haciendo todo lo posible por pisotear a las crías y darles muerte mientras mantienen a raya a la leona. Además, cuando uno o más machos nuevos desbancan al anterior macho asociado a la manada, frecuentemente matan a las crías existentes, quizás porque las hembras no son fértiles y receptivas hasta que sus cachorros crecen o mueren. En total, hasta un 80% de los cachorros mueren antes de llegar a los dos años de edad.

- a) Los búfalos adultos pueden en ocasiones alimentarse de las crías de león.
- b) Solo uno de cada cinco cachorros de león son capaces de llegar a los 24 meses de vida.
- c) Las serpientes, si bien tiene capacidad para matar a los leones cachorros no pueden, debido a su tamaño, alimentarse de ellos.
- d) Cuando hay un cambio en el macho dominante de la manada, las hembras se vuelven sexualmente más receptivas y menos protectivas con sus crías.

1. ¿En qué sector se produjo proporcionalmente un mayor aumento de la productividad por empleado entre 1998 y 2008?



- a) Agricultura
- b) Industria
- c) Construcción
- d) Transporte

2. Si está previsto que la población mundial entre 2005 y 2050 crezca en un 10% y en 2005 la población europea era de 600 millones de personas, ¿cuál es la población de la India prevista para 2050?

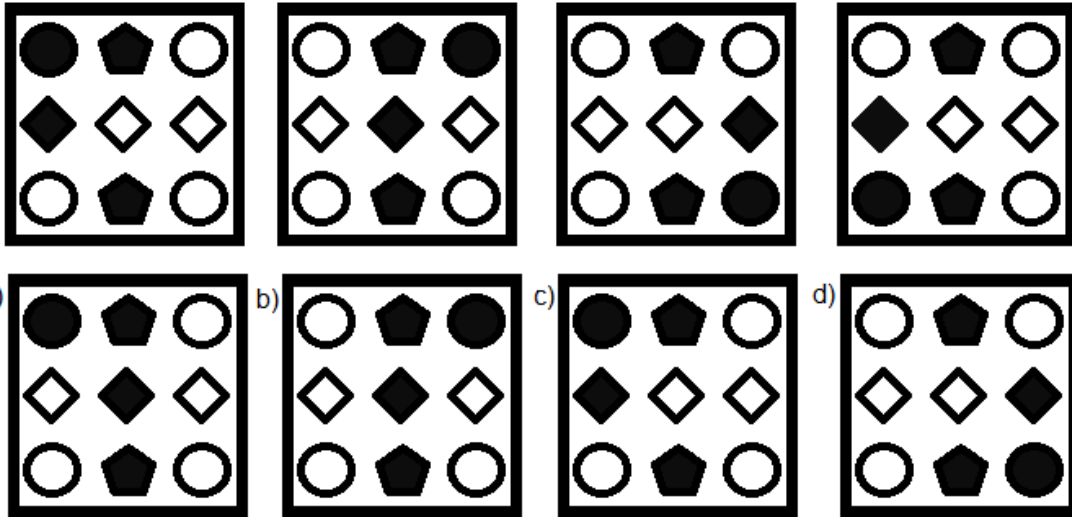
Población mundial (% del total)

	1960	2005	2050
Europa	20,0	11,2	7,6
China	21,4	20,2	15,5
India	14,8	17,4	17,6
Japón	3,1	2,0	1,1
Estados Unidos	6,2	4,6	4,4

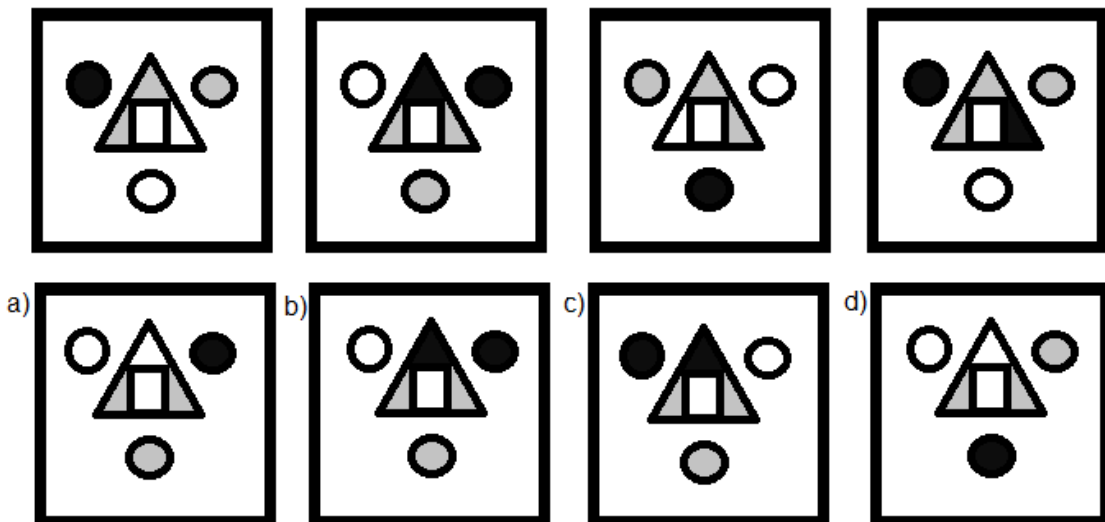
- a) 924,3 millones de personas
- b) 1037,1 millones de personas
- c) 1114,6 millones de personas
- d) 1162,4 millones de personas

En todas las preguntas se persigue adivinar cuál de las cuatro opciones que se nos ofrecen en la fila inferior completa la serie de la fila superior.

1



2



RESPUESTAS RAZONAMIENTO VERBAL

1. Respuesta correcta: a)

2. Respuesta correcta: b)

RESPUESTAS RAZONAMIENTO NUMÉRICO

1. Respuesta correcta: c) Construcción

En la agricultura el aumento fue de 3,7 (15,9 – 12,2) miles de euros, es decir un 30,3% ($3,7 * 100 / 12,2$). En industria fue del 44,3%, en construcción del 51,7% y en transporte del 29,8%. Si vamos mal de tiempo y nos encontramos una pregunta de este tipo en el examen es posible utilizar la información visual y responder sin hacer cálculos. En este caso, una mirada al gráfico nos permitiría descartar fácilmente las respuestas a) y d), con lo que las posibilidades de acierto serían del 50%.

2. Respuesta correcta: b) 1037,1 millones de personas.

La población total en 2005 era de 5357,1 millones de personas ($600 * 100 / 11,2$), por lo que en 2050 será de 5892,8 ($5357,1 * 110 / 100$). La población de la India será el 17,6% de 5892,8, es decir, 1037,1 ($17,6 * 5892,8 / 100$) millones de personas.

RESPUESTAS RAZONAMIENTO ABSTRACTO

1. Respuesta correcta: a)

El círculo negro se desplaza a la siguiente esquina en el sentido las agujas del reloj. El rombo negro se desplaza en horizontal hacia la derecha y recomienza el ciclo en la izquierda. Los pentágonos se mantienen en su misma posición.

2. Respuesta correcta: a)

El color de los círculos gira en dirección opuesta a las agujas del reloj, al igual que el color gris de los triángulos. El triángulo restante alterna blanco/negro.

*Consigue
mãis test para
practicar en*

